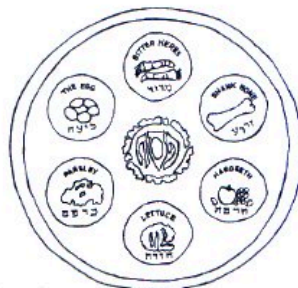
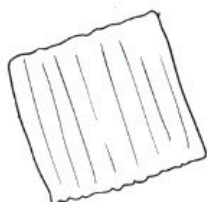




חֹבֶרֶת הַמְסַפְּרִים שֶׁל :

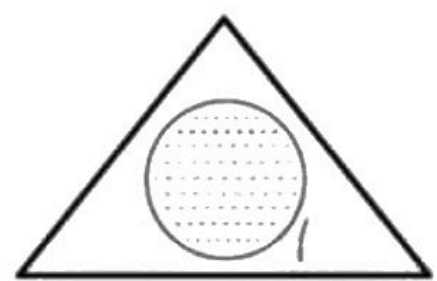
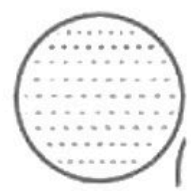
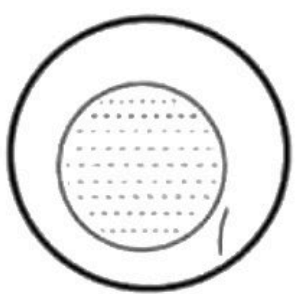



לפסח



בואו נשלים את הצורה
החסרה בלוח הצורות.

מורה ציפי



בואו נבחר את האקפור שאתאים לכמות
הציורים ונעבר על הקו האקוקו.



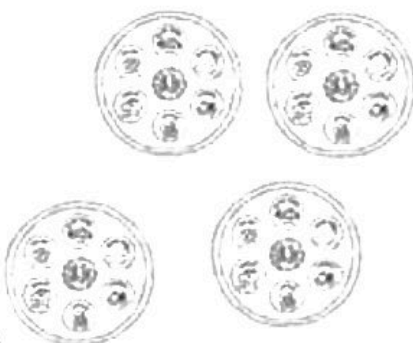
3 6 2



1 4 2



5 1 4



4 3 6

בואו נשלים את
האקטורים החסרים

$$8 - \begin{array}{c} \text{[ריבוע]} \\ \text{[ריבוע]} \\ \text{[ריבוע]} \end{array} = \text{[ריבוע]}$$

$$\begin{array}{c} \text{[ספר]} \\ \text{[ספר]} \\ \text{[ספר]} \end{array} - 1 = \text{[ריבוע]}$$

$$9 - \text{[כוס]} = \text{[ריבוע]}$$

$$10 - \text{[ריבוע]} = \begin{array}{c} \text{[טבעה]} \\ \text{[טבעה]} \\ \text{[טבעה]} \\ \text{[טבעה]} \end{array}$$

בואו נשלים את
האקטורים הקטרים







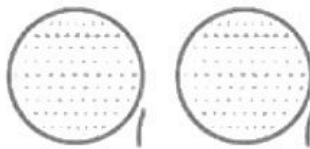
$$\begin{array}{c} \text{הגדה} \\ \text{הגדה} \end{array} + 5 = \square$$

$$4 + \begin{array}{c} \text{קטורים} \\ \text{קטורים} \\ \text{קטורים} \end{array} = \square$$







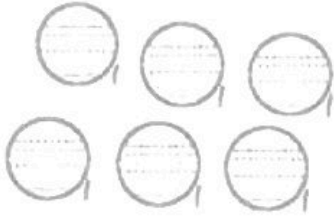
$$\text{כוס} + 3 = \square$$

$$\square + 1 = \begin{array}{c} \text{קטורים} \\ \text{קטורים} \\ \text{קטורים} \\ \text{קטורים} \end{array}$$

בואו נבחר את האקספר
שאתאים לכמות הציורים.



בואו נבחר את הקטן
 שאתאים לכמות הצירים.



בואו נכתוב את האות שצבה
מתחיל הציור ונעבור על הקו האקוקו.

כמג



סכל



אמד



טזק



בואו נעבוד על הקווים
שביין קטגלי חג הפסח.

