














פאזל חשבון עד 20

גזרו את החלקים הצבעוניים, כל אחד בתורו הופך חלק ומניח על התמונה

$10 + 8$ 	$16 - 4$ 	$15 - 8$ 	$7 + 9$ 
$18 - 5$ 	$12 - 7$ 	$10 + 10$ 	$20 - 1$ 
$5 + 3$ 	$6 + 5$ 	$9 - 6$ 	$13 - 4$ 



חיבור נעלמים

מצאו את הפתרון לכל אחד מהתרגילים

$$\text{Apple} + \text{Apple} = 8$$

$$\text{Apple} + \text{Pear} = 6$$

$$\text{Pear} + \text{Lemon} = 3$$

$$\text{Apple} + \text{Lemon} = \square$$

$$\text{Butterfly} + \text{Butterfly} = 4$$

$$\text{Butterfly} + \text{Ladybug} = 5$$

$$\text{Ladybug} + \text{Bee} = 8$$

$$\text{Butterfly} + \text{Bee} = \square$$

$$\text{Peacock} + \text{Peacock} = 2$$

$$\text{Peacock} + \text{Flamingo} = 3$$

$$\text{Flamingo} + \text{Parrot} = 5$$

$$\text{Peacock} + \text{Parrot} = \square$$

$$\text{Cake} + \text{Cake} = 4$$

$$\text{Cake} + \text{Cupcake} = 3$$

$$\text{Cupcake} + \text{Macaron} = 9$$

$$\text{Cake} + \text{Macaron} = \square$$

$$\text{Ice Cream} + \text{Ice Cream} = 6$$

$$\text{Ice Cream} + \text{Donut} = 7$$

$$\text{Donut} + \text{Waffles} = 9$$

$$\text{Ice Cream} + \text{Waffles} = \square$$

$$\text{Strawberry} + \text{Strawberry} = 4$$

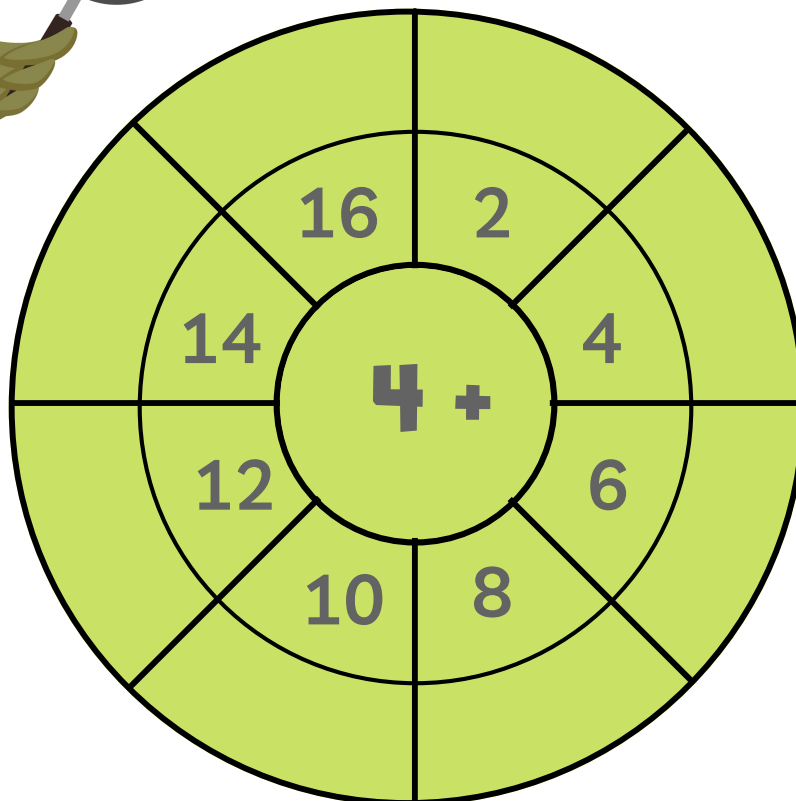
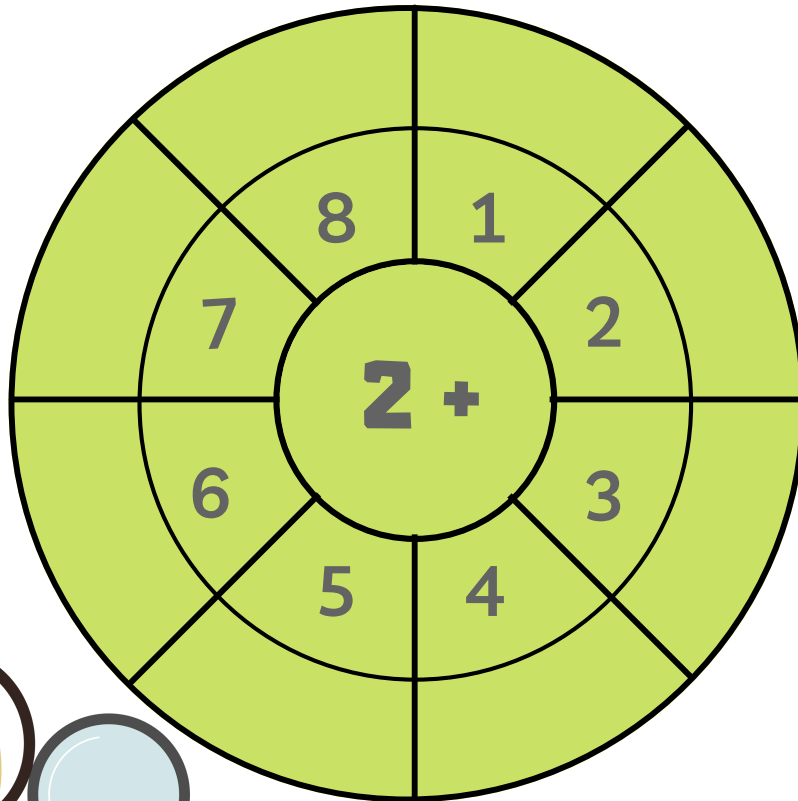
$$\text{Strawberry} + \text{Mango} = 6$$

$$\text{Mango} + \text{Banana} = 7$$

$$\text{Strawberry} + \text{Banana} = \square$$

מה הסכום?

השלימו את הסכום בחלקים הרקים



אשתק הזכרון- חיבור עד 5, או מלחמה



5

ללמוד בדרכך
נסלי יחיעם

$2+3$

ללמוד בדרכך
נסלי יחיעם

$2+2$

ללמוד בדרכך
נסלי יחיעם

4

ללמוד בדרכך
נסלי יחיעם

$1+3$

ללמוד בדרכך
נסלי יחיעם

4

ללמוד בדרכך
נסלי יחיעם

$1+4$

ללמוד בדרכך
נסלי יחיעם

5

ללמוד בדרכך
נסלי יחיעם



7



ללמוד בדרכך
נסלי יחיעם

7+6



ללמוד בדרכך
נסלי יחיעם

3+4



ללמוד בדרכך
נסלי יחיעם

7



ללמוד בדרכך
נסלי יחיעם

5+2



ללמוד בדרכך
נסלי יחיעם

7



ללמוד בדרכך
נסלי יחיעם

7+0



ללמוד בדרכך
נסלי יחיעם

7



ללמוד בדרכך
נסלי יחיעם



2



ללמוד בדרכך
נסלי יחיעם

1+1



ללמוד בדרכך
נסלי יחיעם

3+3



ללמוד בדרכך
נסלי יחיעם

3



ללמוד בדרכך
נסלי יחיעם

1+2



ללמוד בדרכך
נסלי יחיעם

6



ללמוד בדרכך
נסלי יחיעם

2+4



ללמוד בדרכך
נסלי יחיעם

6



ללמוד בדרכך
נסלי יחיעם



8



ללמוד בדרכך
נסלי יחיעם

7+1



ללמוד בדרכך
נסלי יחיעם

3+5



ללמוד בדרכך
נסלי יחיעם

8



ללמוד בדרכך
נסלי יחיעם

6+2



ללמוד בדרכך
נסלי יחיעם

8



ללמוד בדרכך
נסלי יחיעם

4+4



ללמוד בדרכך
נסלי יחיעם

8



ללמוד בדרכך
נסלי יחיעם



1



ללמוד בדרכך
נסלי יחיעם

0+1



ללמוד בדרכך
נסלי יחיעם

0+2



ללמוד בדרכך
נסלי יחיעם

2



ללמוד בדרכך
נסלי יחיעם

0+3



ללמוד בדרכך
נסלי יחיעם

4



ללמוד בדרכך
נסלי יחיעם

0+4



ללמוד בדרכך
נסלי יחיעם

3



ללמוד בדרכך
נסלי יחיעם



5

ללמוד בדרכך
נסלי יחיעם

$0+5$

ללמוד בדרכך
נסלי יחיעם

$0+6$

ללמוד בדרכך
נסלי יחיעם

6

ללמוד בדרכך
נסלי יחיעם

$1+5$

ללמוד בדרכך
נסלי יחיעם

6

ללמוד בדרכך
נסלי יחיעם

$0+8$

ללמוד בדרכך
נסלי יחיעם

8

ללמוד בדרכך
נסלי יחיעם



9

ללמוד בדרכך
נסלי יחיעם

$2+7$

ללמוד בדרכך
נסלי יחיעם

$3+6$

ללמוד בדרכך
נסלי יחיעם

9

ללמוד בדרכך
נסלי יחיעם

$4+5$

ללמוד בדרכך
נסלי יחיעם

9

ללמוד בדרכך
נסלי יחיעם

$1+8$

ללמוד בדרכך
נסלי יחיעם

9

ללמוד בדרכך
נסלי יחיעם



9

ללמוד בדרכך
נסלי יחיעם

$9+0$

ללמוד בדרכך
נסלי יחיעם

$4+6$

ללמוד בדרכך
נסלי יחיעם

10

ללמוד בדרכך
נסלי יחיעם

$5+5$

ללמוד בדרכך
נסלי יחיעם

10

ללמוד בדרכך
נסלי יחיעם

$2+8$

ללמוד בדרכך
נסלי יחיעם

10

ללמוד בדרכך
נסלי יחיעם



10



ללמוד בדרכך
נסלי יחיעם

7+3



ללמוד בדרכך
נסלי יחיעם

1+9



ללמוד בדרכך
נסלי יחיעם

10



ללמוד בדרכך
נסלי יחיעם

0+10



ללמוד בדרכך
נסלי יחיעם

10



ללמוד בדרכך
נסלי יחיעם



ללמוד בדרכך
נסלי יחיעם



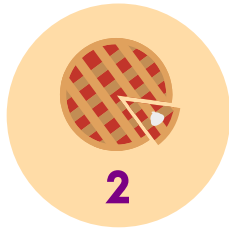



ללמוד בדרכך
נסלי יחיעם



תרגילים עם נעלמים



פתרו לפי האיורים









1.  +  =

2.  +  =

3.  +  =

4.  -  =

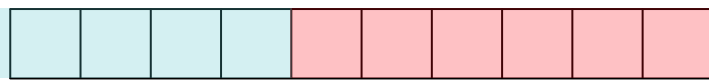

5.  -  -  =

6.  -  -  =


7.  +  -  +  =

8.  +  +  -  =


צבעו והשלימו ל-10




$$\textcircled{4} + \textcircled{6} = 10$$




$$\textcirc{\quad} + \textcirc{\quad} = 10$$



$$\textcirc{\quad} + \textcirc{\quad} = 10$$




$$\textcirc{\quad} + \textcirc{\quad} = 10$$



$$\textcirc{\quad} + \textcirc{\quad} = 10$$




$$\textcirc{\quad} + \textcirc{\quad} = 10$$



$$\textcirc{\quad} + \textcirc{\quad} = 10$$



$$\textcirc{\quad} + \textcirc{\quad} = 10$$



$$\textcirc{\quad} + \textcirc{\quad} = 10$$